

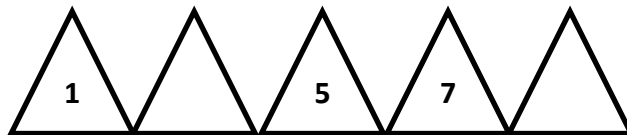
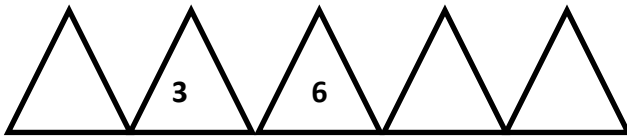
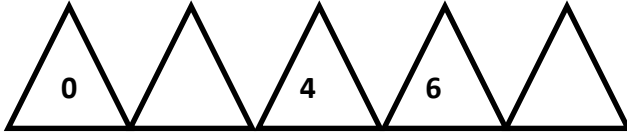


ΔΗΜΟΤΙΚΟ ΣΧΟΛΕΙΟ

Όνομα: _____ Τάξη: _____

Αξιολόγηση στα Μαθηματικά - Ενότητα 1

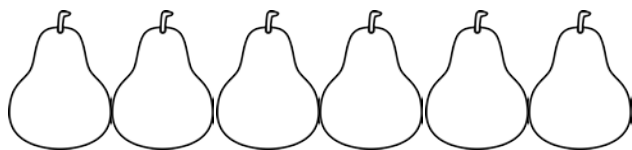

1. Γράψε στα τριγωνάκια τους αριθμούς που λείπουν.



2. Συμπλήρωσε τη μαθηματική πρόταση για την κάθε εικόνα.



$$\square - \square = \square$$



$$\square + \square = \square$$

3. Με τους αριθμούς 8, 5 και 13 γράψε τέσσερις ισότητες:

_____	_____
_____	_____

4. Γράψε στο κάθε κουτάκι το κατάλληλο σύμβολο +, -

$15 \square 2 = 17$

$9 \square 3 = 6$

$15 \square 7 = 8$

$8 \square 4 = 12$

$14 \square 3 = 11$

$6 \square 7 = 13$

5. Λύσε το πρόβλημα:

Ο Ηλίας είναι 13 χρονών. Η αδελφή του η Νίκη είναι 5 χρόνια μικρότερη.

Πόσων χρονών είναι η Νίκη;

Απάντηση: _____

6. Κάνε τις πράξεις.

$7 + 3 =$

$5 + 6 =$

$20 - 5 =$

$8 + 7 =$

$9 + 6 =$

$14 - 6 =$

$12 - 4 =$

$15 - 9 =$

$16 - 4 =$

$13 - 7 =$

$17 - 4 =$

$8 + 4 =$

$14 - \dots = 8$

$11 - \dots = 7$

$4 + \dots = 18$

$5 + \dots = 13$

$\dots + 7 = 17$

$\dots - 7 = 9$

$\dots - 6 + 12$

$\dots + 3 = 12$

7. Μελέτησε τον τιμοκατάλογο και απάντησε τις ερωτήσεις που ακολουθούν:



Ξόδεψα 16
σεντ.

Ηλίας

Τιμοκατάλογος

Γλειφιτζούρι	7 σεντ
Σοκολάτα	14 σεντ
Τσίχλες	9 σεντ
Πατατάκια	11 σεντ
Παγωτό	5 σεντ

Κρατώ 8
σεντ.



Νίκη

1. Πόσο στοιχίζουν δύο γλειφιτζούρια; _____
2. Αγόρασα ένα γλειφιτζούρι και τσίχλες. Πόσα πλήρωσα; _____

3. Πόσα χρήματα χρειάζεται ακόμα η Νίκη για να πάρει μια σοκολάτα;

4. Τι νομίζεις αγόρασε ο Ηλίας; _____
5. Αγόρασα πατατάκια κι έδωσα 15 σεντ. Πόσα ρέστα πήρα;
